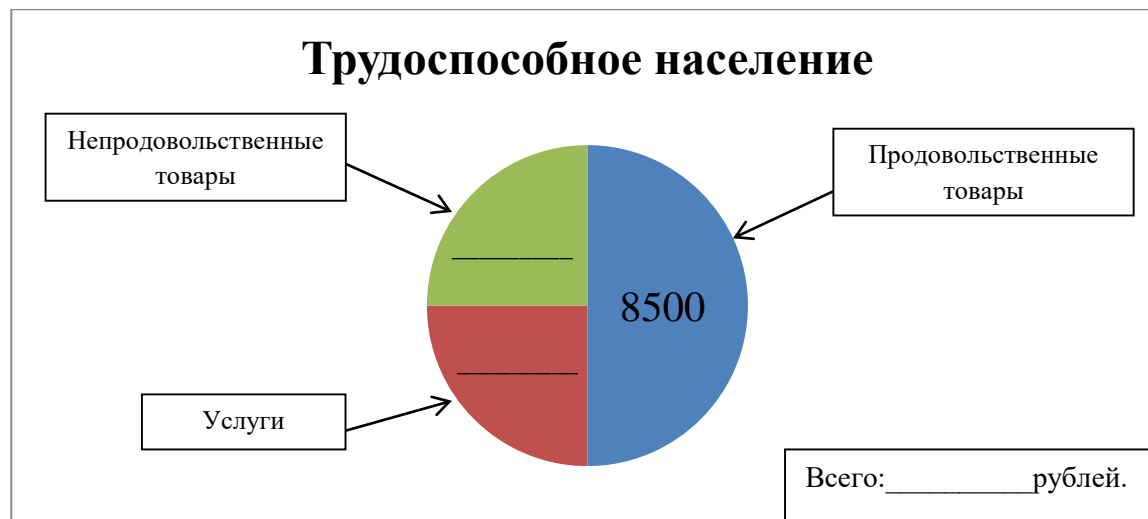


ЗАДАНИЕ 4. ДИАГРАММА

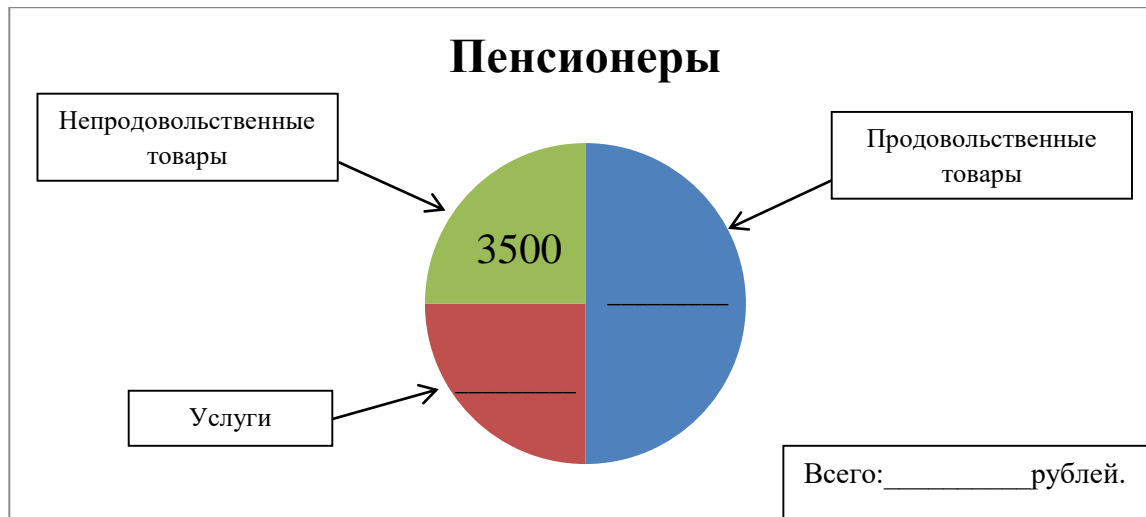
Группа 1. Рассчитайте стоимость потребительской корзины для трудоспособного населения, допишите недостающие данные в диаграмме.



Сравните стоимость рассчитанной вами потребительской корзины и размер прожиточного минимума граждан вашей категории в Санкт-Петербурге в 2024 году. Сделайте вывод.

ЗАДАНИЕ 4. ДИАГРАММА

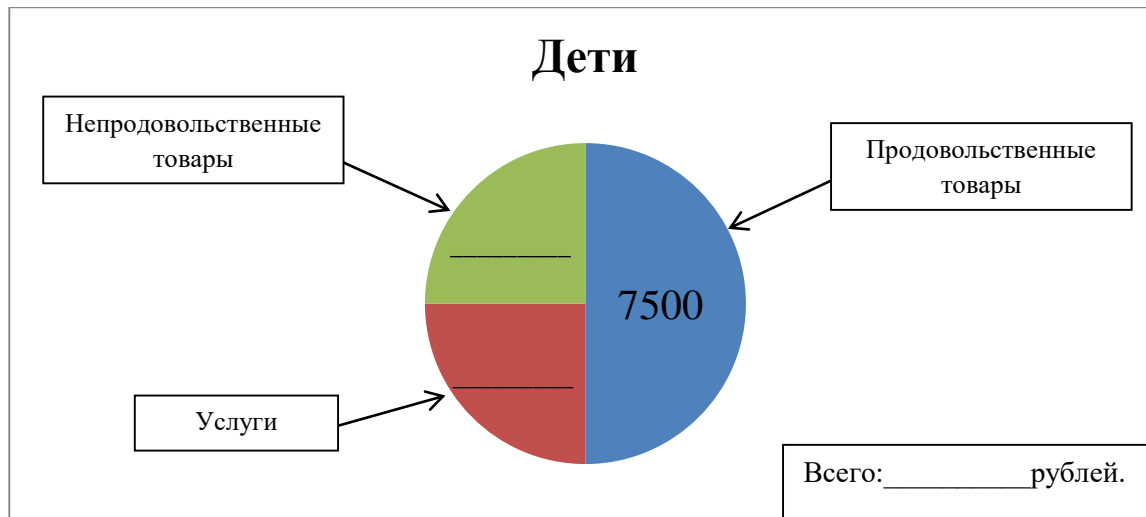
Группа 2. Рассчитайте стоимость потребительской корзины для пенсионеров, допишите недостающие данные в диаграмме.



Сравните стоимость рассчитанной вами потребительской корзины и размер прожиточного минимума граждан вашей категории в Санкт-Петербурге в 2024 году. Сделайте вывод.

ЗАДАНИЕ 4. ДИАГРАММА

Группа 3. Рассчитайте стоимость потребительской корзины для детей, допишите недостающие данные в диаграмме.



Сравните стоимость рассчитанной вами потребительской корзины и размер прожиточного минимума граждан вашей категории в Санкт-Петербурге в 2024 году. Сделайте вывод.