

24 ноября 2023г.

Текстовая сюжетная задача в одно действие: запись решения, ответа задачи.

Модели задач: краткая запись, рисунок, схема

ФИ _____


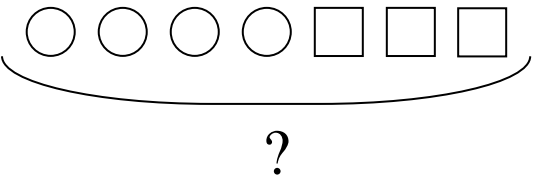
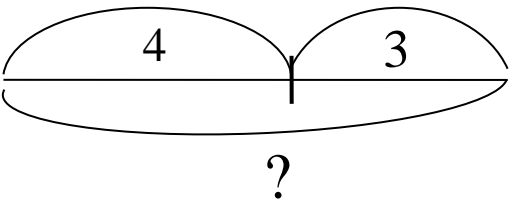
Задание № 1

1	2	3	4	5	6
е	а	л	б	о	к

$5 - 1 + 0 =$		
$6 - 3 - 2 =$		
$2 + 1 + 0 =$		
$3 - 0 + 3 =$		
$4 + 1 - 3 =$		



Задание № 2

 1	$\left. \begin{array}{l} 3. - 4 \\ \text{Ёж.} - 3 \end{array} \right\} ?$ 2
 3	 4

Задач

Отве



Задание № 3

Задача

•




•

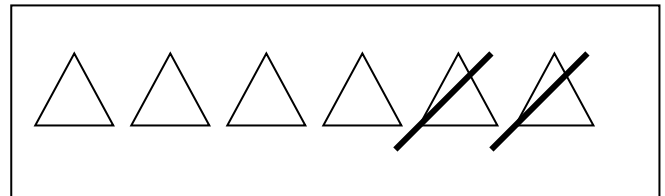
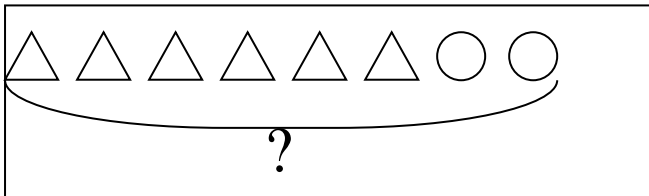
Отве



Задание № 4*

Прочитай задачу. Выбери краткую запись, которая подходит к этой задаче. Закрась рамку в жёлтый цвет.

На ветке было 6  . Потом 2  упали. Сколько  осталось на ветке?



Задание № 5*

Нарисуй белку по клеткам.

